

**Демонстрационный вариант  
География, 10 класс  
(сопровождение промежуточной аттестации)**

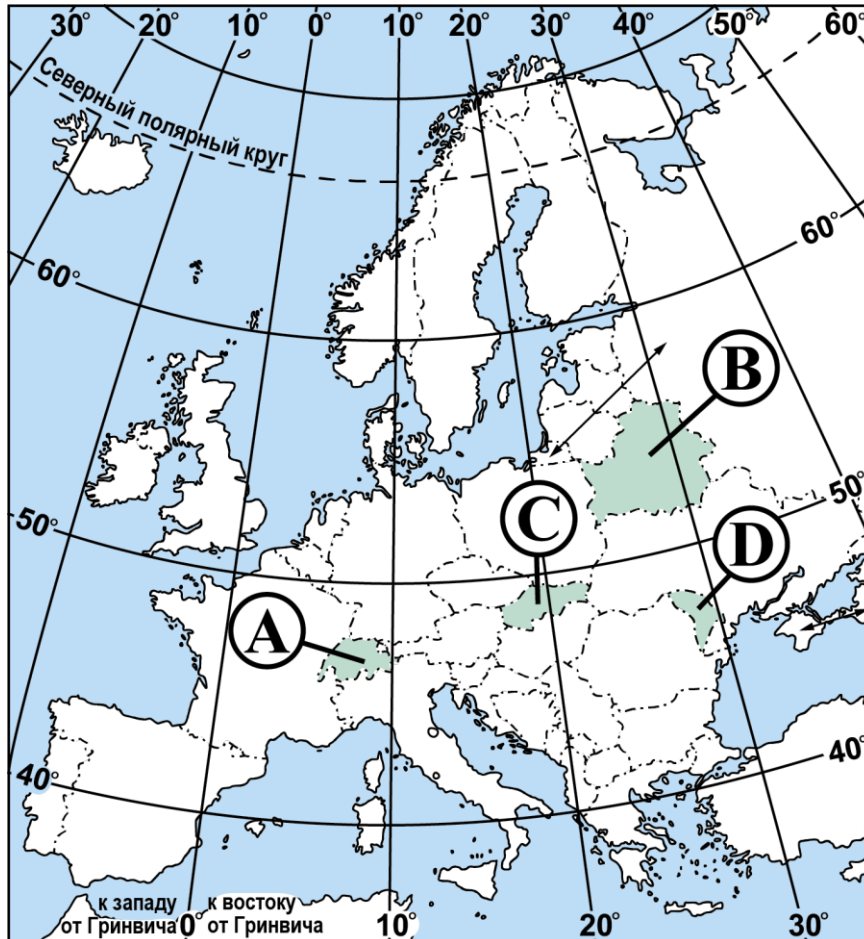
Дополнительные материалы: географический атлас для 10 класса, калькулятор.

Продолжительность работы: 45 минут

**Работа за 1 полугодие**

**1**

Какой буквой на карте Европы обозначена территория государства Швейцария?



- 1) А                                      2) В                                      3) С                                      4) D

**2**

Установите соответствие между страной и её столицей: для каждой позиции из первого столбца подберите соответствующую позицию из второго столбца, обозначенную цифрой.

**СТРАНА**

**СТОЛИЦА**

- А) Аргентина  
Б) Монголия  
В) Марокко

- 1) Улан-Батор  
2) Буэнос-Айрес  
3) Рабат  
4) Кабул

Запишите в таблицу выбранные цифры под соответствующими буквами.

	А	Б	В
<b>Ответ:</b>	<input type="text"/>	<input type="text"/>	<input type="text"/>

- 3 По численности населения Россия превосходит
- 1) Бразилию
  - 2) США
  - 3) Индонезию
  - 4) Японию

- 4 Какие из перечисленных стран обладают крупными запасами железных руд?
- 1) Финляндия и Дания
  - 2) Россия и Бразилия
  - 3) Египет и Саудовская Аравия
  - 4) Япония и Великобритания

- 5 Используя данные таблицы, сравните ресурсообеспеченность стран углём. Расположите страны в порядке увеличения ресурсообеспеченности, начиная со страны с наименьшим значением этого показателя.

	Страна	Разведанные запасы угля, млн т	Добыча угля, млн т в год
1)	Австралия	76 400	415
2)	Германия	40 699	189
3)	Украина	33 873	87

Запишите в ответе получившуюся последовательность цифр.

Ответ: \_\_\_\_\_.

- 6 Расположите перечисленные страны в порядке возрастания в них естественного прироста населения (на 1 тыс. жителей), начиная со страны с наименьшим значением этого показателя.
- 1) Боливия
  - 2) Австралия
  - 3) Кения
  - 4) Венгрия

Запишите в ответе получившуюся последовательность цифр.

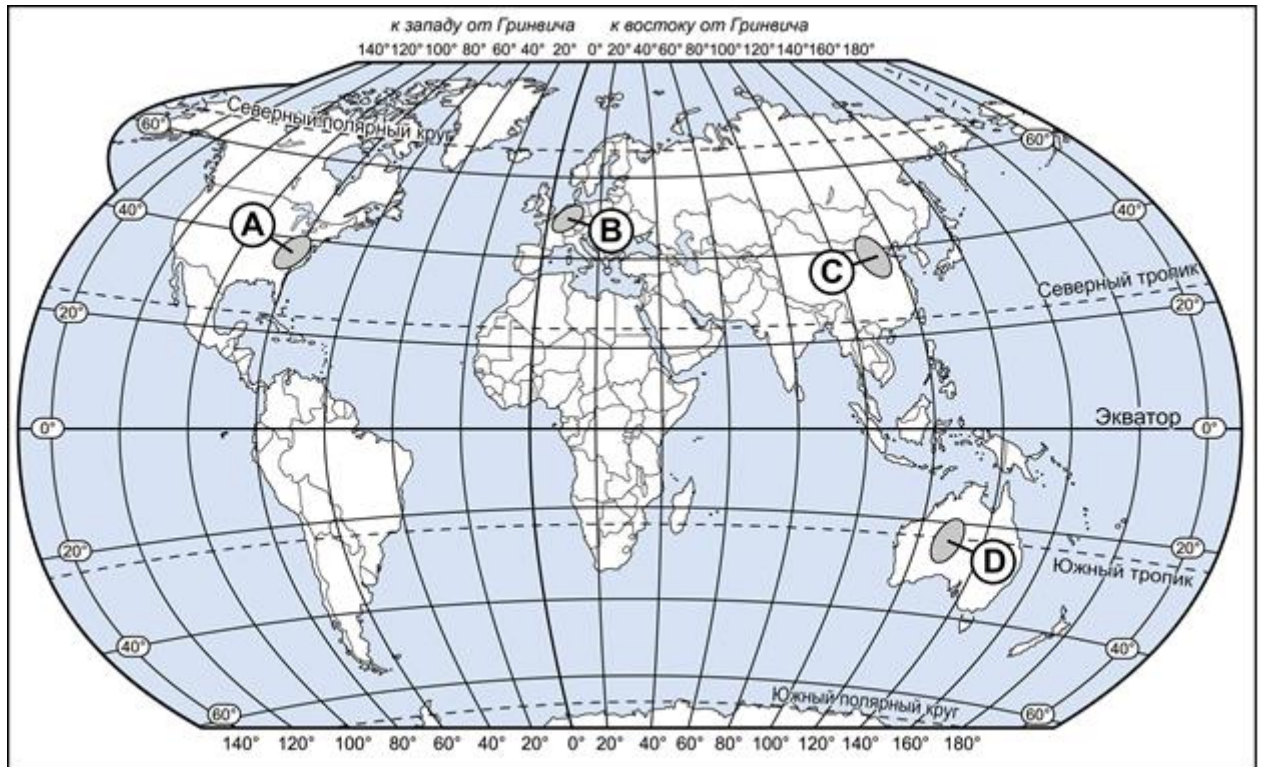
Ответ: \_\_\_\_\_.

- 7 В какой из перечисленных стран доля детей в возрастной структуре населения **наибольшая**?
- 1) Италия
  - 2) Бразилия
  - 3) Германия
  - 4) Польша

8 В какой из перечисленных стран большинство верующих исповедуют ислам?

- 1) Лаос
- 2) Перу
- 3) Португалия
- 4) Алжир

9 На какой из перечисленных территорий, обозначенных буквами на карте мира, средняя плотность населения **наименьшая**?



- 1) A
- 2) B
- 3) C
- 4) D

10 В каком из высказываний содержится информация о миграциях населения?

- 1) В развитых странах с низким естественным приростом населения возникают проблемы, связанные со «старением нации».
- 2) В настоящее время в возрастной структуре населения России доля лиц в возрасте 65 лет и старше составляет около 13 %.
- 3) В Индии подавляющее большинство населения проживает в деревнях и занято в сельском хозяйстве.
- 4) За 90-е гг. XX в. в Россию из стран СНГ и Балтии переехало более 8 млн человек.

11 В какой из перечисленных стран доля городского населения в общей численности населения **наибольшая**?

- 1) ДР Конго
- 2) Лаос
- 3) Аргентина
- 4) Бангладеш

12

Для какой из перечисленных стран характерна структура занятости населения, показанная на диаграмме?



- 1) Германия      2) Франция      3) Уганда      4) Австралия

13

В каком из высказываний содержится информация об отрасли международной специализации?


- 1) На мировом рынке в 2006–2007 гг. алюминия выплавлялось больше, чем потреблялось.
- 2) В 2012 г. внешнеторговый оборот России составил 103,7 (в процентах к предыдущему году).
- 3) В 2012 г. в общем объеме экспорта России в страны дальнего зарубежья наибольшие объемы приходились на долю Нидерландов – 14,6 %.
- 4) В 2012 г. по добыче и экспорту нефти РФ входила в тройку мировых лидеров; удельный вес экспорта нефти в общем объеме российского экспорта в первом полугодии 2013 г. составлял 34,5 %.

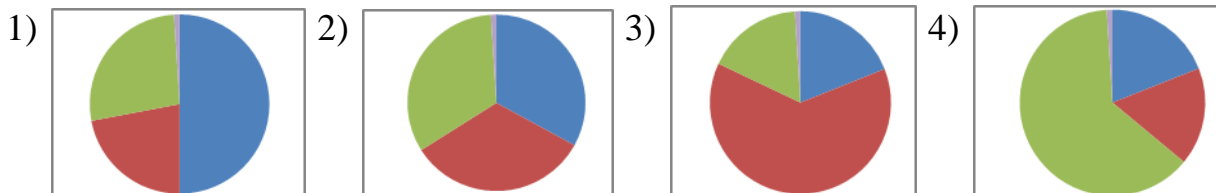
**14** На какой из перечисленных диаграмм правильно показана структура производства электроэнергии в мире по типам электростанций?

 – АЭС

 – ТЭС

 – ГЭС

 – электростанции, использующие нетрадиционные (альтернативные) источники энергии



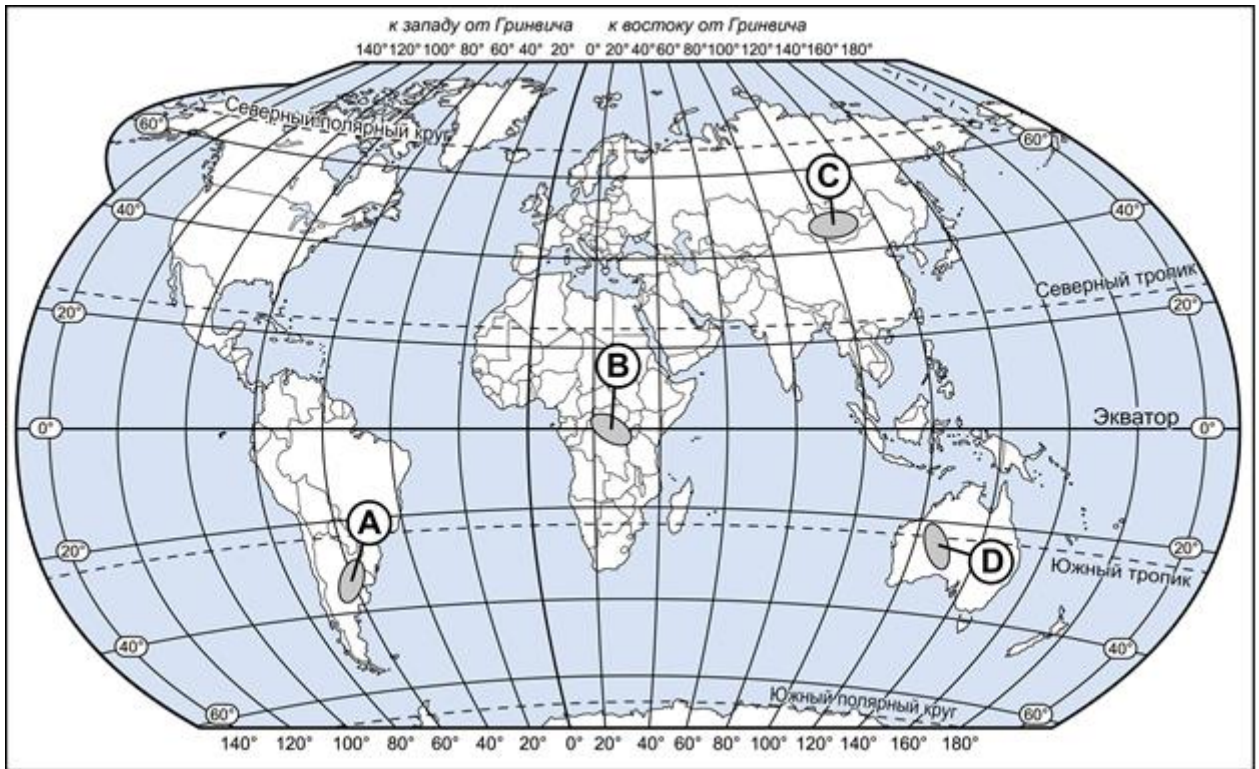
**15** Какие **три** из перечисленных стран являются крупными производителями и экспортёрами нефти?

- 1) Саудовская Аравия
- 2) Германия
- 3) Венесуэла
- 4) Италия
- 5) Нигерия
- 6) Япония

**16** Какая из перечисленных стран является одним из крупных производителей и экспортёров морских судов?

- 1) Афганистан
- 2) Республика Корея
- 3) Венесуэла
- 4) Швейцария

- 17 Какой буквой на карте мира обозначена территория, в пределах которой находятся значительные посевы пшеницы?



- 1) A                      2) B                      3) C                      4) D

- 18 В какой из перечисленных стран густота железных дорог наибольшая?

- 1) Австралия            2) Россия            3) Бразилия            4) Германия

- 19 Какая из перечисленных стран является членом АСЕАН?

- 1) Австралия            2) Вьетнам            3) Бразилия            4) Индия

## Работа за 2 полугодие

**1** Вокруг какого из перечисленных городов Европы сформировалась **наибольшая** по численности населения городская агломерация?

- 1) Прага            2) Лондон            3) Лиссабон            4) Берлин

**2** Одним из крупных производителей и экспортёров природного газа в Зарубежной Европе является

- 1) Швейцария  
2) Норвегия  
3) Чехия  
4) Португалия

**3** Верны ли следующие утверждения о Франции?

**А.** По форме правления является монархией.  
**Б.** В электроэнергетике бóльшая часть электроэнергии производится на ТЭС.

- 1) верно только А  
2) верно только Б  
3) оба утверждения верны  
4) оба утверждения неверны

**4** Верны ли следующие утверждения о Великобритании?

**А.** Является крупнейшей в зарубежной Европе по численности населения.  
**Б.** По форме правления является монархией.

- 1) верно только А  
2) верно только Б  
3) оба утверждения верны  
4) оба утверждения неверны

**5** Определите страну по её краткому описанию.

Эта европейская страна по форме правления – конституционная монархия. Находится на полуострове, береговая линия глубоко изрезана фьордами. Является одним из мировых лидеров по значению ИЧР. Ведущие отрасли промышленности: добыча нефти и природного газа. Крупный производитель и экспортёр углеводородов. Несмотря на наличие больших запасов углеводородного топлива, более 90 % электроэнергии вырабатывается на гидроэлектростанциях.

Ответ: \_\_\_\_\_.

- 6** Верны ли следующие утверждения о Китае?
- А.** Столица является самым крупным по численности населения городом страны.
- Б.** Большая часть электроэнергии в стране производится на ТЭС.
- 1) верно только А
  - 2) верно только Б
  - 3) оба утверждения верны
  - 4) оба утверждения неверны

**7** Определите страну по её краткому описанию.

Эта высокоразвитая страна занимает территорию четырёх крупных и нескольких тысяч мелких островов. По форме правления является монархией. Особенностью природы является преобладание горного рельефа, высокая сейсмичность и активный вулканизм. Страна бедна полезными ископаемыми. Из-за вытянутости в меридиональном направлении климатические условия разнообразны. Более 60 % территории, главным образом горы, покрыто лесами: смешанными, широколиственными и переменнно-влажными (в том числе муссонными). Средняя плотность населения превышает 100 человек на 1 км<sup>2</sup>.

Ответ: \_\_\_\_\_.

- 8** Верны ли следующие утверждения об Индии?
- А.** По форме правления является республикой.
- Б.** В общей численности населения преобладает городское население.
- 1) верно только А
  - 2) верно только Б
  - 3) оба утверждения верны
  - 4) оба утверждения неверны

- 9** Верны ли следующие утверждения об Австралии?
- А.** Австралия относится к числу ведущих стран мира по добыче каменного угля, железных руд и бокситов.
- Б.** Большая часть населения сосредоточена во внутренних районах страны.
- 1) верно только А
  - 2) верно только Б
  - 3) оба утверждения верны
  - 4) оба утверждения неверны



**10**

Верны ли следующие утверждения о населении Африки?

**А.** В Африке самые высокие в мире темпы воспроизводства населения.

**Б.** В большинстве стран Африки высокая ожидаемая продолжительность жизни населения.

- 1) верно только А
- 2) верно только Б
- 3) оба утверждения верны
- 4) оба утверждения неверны

**11**

Определите страну по её краткому описанию.

Территория этой африканской страны пересекается нулевым меридианом. Северная прибрежная часть, где проживает более 95 % всего населения, расположена в субтропическом поясе, остальная – в тропическом поясе. Запасы нефти и природного газа составляют её основное богатство. Страна входит в состав ОПЕК.

Ответ: \_\_\_\_\_.

**12**

Какой язык, кроме английского, является официальным в Канаде?

- 1) французский
- 2) немецкий
- 3) испанский
- 4) португальский

**13**

Верны ли следующие утверждения о Соединённых Штатах Америки?

**А.** Являются крупнейшей по численности населения страной Северной Америки.

**Б.** Относятся к числу крупных мировых производителей каменного угля.

- 1) верно только А
- 2) верно только Б
- 3) оба утверждения верны
- 4) оба утверждения неверны

**14**

Определите страну по её краткому описанию.

Территория страны полностью расположена в Западном полушарии, она омывается водами трёх океанов, является крупнейшей по площади территории на материке, на котором она расположена.

Ответ: \_\_\_\_\_.

**15** Верны ли следующие утверждения о природно-ресурсном потенциале Южной Америки?

**А.** На севере материка разведаны крупные месторождения нефти.

**Б.** Южная Америка по обеспеченности водными ресурсами занимает лидирующие позиции в мире.

- 1) верно только А
- 2) верно только Б
- 3) оба утверждения верны
- 4) оба утверждения неверны

**16** Определите страну по её краткому описанию.

Эта самая большая по площади территории и численности населения страна материка обладает значительным природно-ресурсным потенциалом. Разведаны руды чёрных и цветных металлов, уголь, нефть и другие полезные ископаемые. По запасам твёрдой древесины занимает одно из первых мест в мире. Велики гидроэнергетические ресурсы: большая часть электроэнергии вырабатывается на гидроэлектростанциях. Столица – не самый крупный по численности населения город страны. Является одним из ведущих мировых производителей стали, биотоплива, кофе, сои, сахара, апельсинов.

Ответ: \_\_\_\_\_.

**17** Определите страну по её краткому описанию.

Эта страна – вторая по численности населения на материке, на котором она находится. Расположена в Северном полушарии. Имеет выход к двум океанам. Богата рудами цветных металлов, нефтью и природным газом. Вокруг столицы страны сформировалась одна из крупнейших городских агломераций мира. Официальный язык – испанский.

Ответ: \_\_\_\_\_.

## Ответы на задания

### Работа за 1 полугодие

Номер	Правильный ответ	Макс балл
1	1	1
2	213	1
3	4	1
4	2	1
5	123	1
6	4213	1
7	2	1
8	4	1
9	4	1
10	4	1
11	3	1
12	3	1
13	4	1
14	3	1
15	135	1
16	2	1
17	1	1
18	4	1
19	2	1

### Работа за 2 полугодие

Номер	Правильный ответ	Макс балл
1	2	1
2	2	1
3	4	1
4	2	1
5	Норвегия	1
6	2	1
7	Япония	1
8	1	1
9	1	1
10	1	1
11	Алжир	1
12	1	1
13	3	1
14	Канада	1
15	3	1
16	Бразилия	1
17	Мексика	1